

## 65. Interval – tercie

Tercie je vzdálenost od prvního ke třetímu tónu.

V prvním taktu tvoří tercii tóny  $e^1 - e^1$ . Doplň další tercie.



## 66. Stupnice B dur

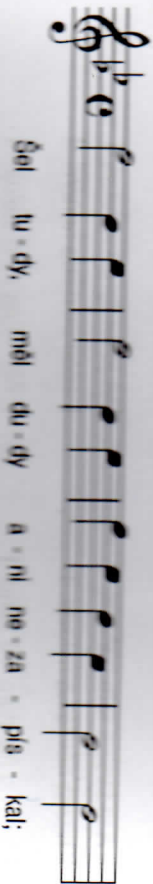
Stupnice B dur má v předznamení dvě béčka .....  
Doplň stupnici B dur, označ oba půltóny a doplň akord.



Akord ve stupnici B dur tvoří tóny hes', .....

## 67. Tónina B dur

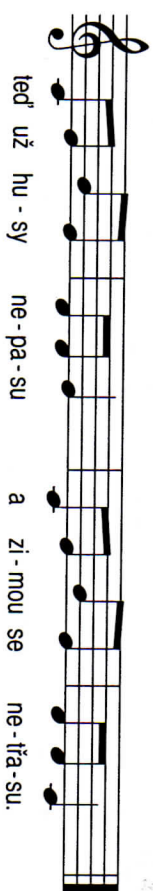
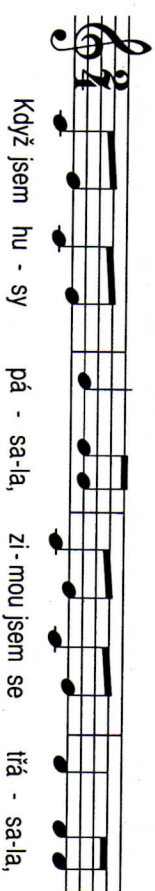
Písnička Šel tudy, měl dudky je v tónině B dur,  
Zakroužkuj červeně noty hes' a modře noty es².



## 68. Když jsem husy pásala (tercie)

Zakroužkuj interval:

červeně – primu  
modře – sekundu  
zeleně – tercii



## 69. Hoboj

Hoboj je černý a na první pohled podobný klarinetu. Vám bystřejším ale neujde, že na rozdíl od klarinetu hráč klade do úst tenký dvojitý plátek – podobný brčku.

Umiš fouknout do stvolu pampelišky? Pokud je to pro tebe hračka, máš naději stát se hobojistou.

Hoboj patří do skupiny dechových dřevěných nástrojů.

